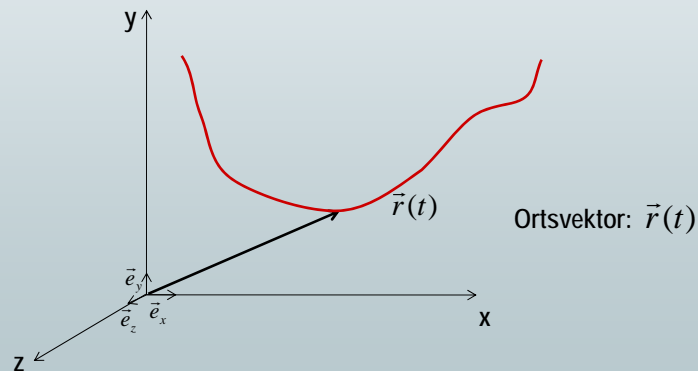
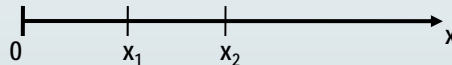


1.0 Intention

Ort, Geschwindigkeit und Beschleunigung eines Körpers zu jedem Zeitpunkt beschreiben.

1.1 Eindimensionale, geradlinige Bewegung

Eindimensionales Koordinatensystem:



➤ Versuch:
Rotierende Dose mit
Markierungspunkt

➤ Versuch:
Ball vor Tafel hochwerfen
• Im Stehen
• Im Gehen

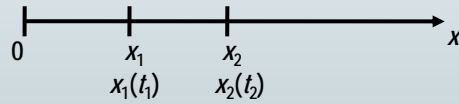
Vereinfachend erfolgt zunächst die Betrachtung:

- von Massenpunkten (ausgedehnte Körper später)
- in Inertialsystemen (erst später auch ein rotierendes Bezugssystem)

1.1.1 Durchschnittsgeschwindigkeit / mittlere Geschwindigkeit

- > Versuch: Eisenbahn
 - Positionsmarken setzen
 - Metronom für Zeittakt

Geschwindigkeitsmessung:



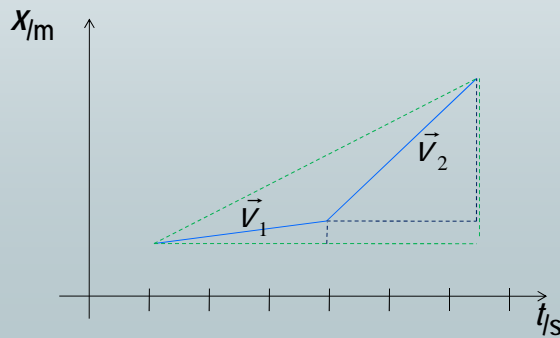
$$v := \frac{\Delta x}{\Delta t} = \frac{x_2 - x_1}{t_2 - t_1} = \frac{x(t_2) - x(t_1)}{t_2 - t_1}$$

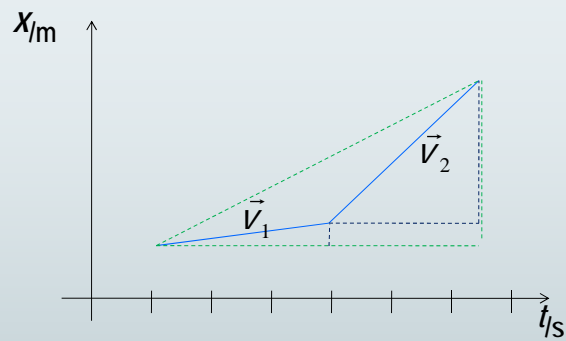
Mittlere Geschwindigkeit = $\frac{\text{Wegstrecke}}{\text{Zeitintervall}}$

Daten aus dem Experiment in eine Wertetabelle aufnehmen:

x/m					
t/s					

Grafische Darstellung im Zeit-Weg-Diagramm - $x(t)$ -Diagramm





$$V_1 =$$

$$V_2 =$$

$$V_{Ges} =$$

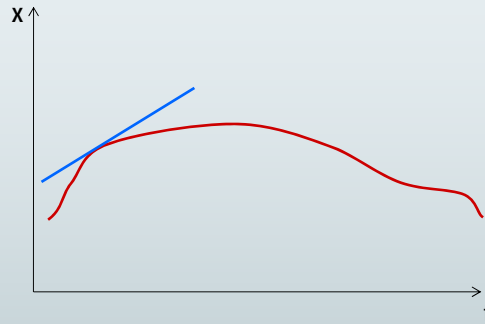
Die Geschwindigkeit ist an der Steigung des Graphen im $x(t)$ -Diagramm ablesbar.

Weitere Möglichkeiten die Bewegungsabläufe zu registrieren

- Stroboskopaufnahme
- Film
- Markierungsstreifen

1 Kinematik

1.1.2 Die Momentangeschwindigkeit



Rechnerisch:

$$v = \lim_{\Delta t \rightarrow 0} \frac{\Delta x}{\Delta t} = \frac{dx}{dt}$$

Graphisch:

Die Momentangeschwindigkeit zu einem bestimmten Zeitpunkt zeigt sich als die Steigung der Tangente an der $x(t)$ -Kurve zu diesem Zeitpunkt.

R. Girwidz

7

1 Kinematik

Exkurs: Ableitung einer Potenzfunktion

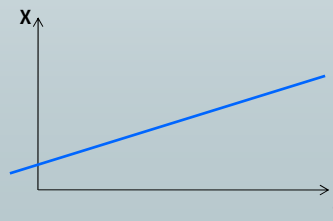
$$x(t) = c \cdot t^n$$

$$\begin{aligned} \dot{x} &= \frac{d x(t)}{dt} \\ &= \frac{d}{dt} (c \cdot t^n) = c \cdot \frac{d}{dt} (t^n) = c \cdot n \cdot t^{n-1} \end{aligned}$$

Beispiel:

$$x(t) = b \cdot t^n + c$$

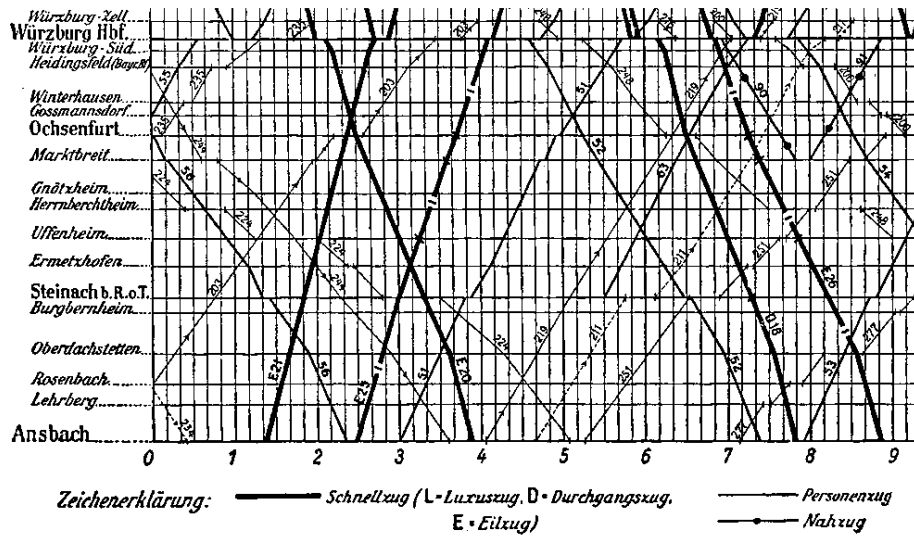
$$v = \dot{x} = b$$



R. Girwidz

8

WÜRZBURG - ANSBACH




R. Girwidz

9

1 Kinematik

Aufgabe: Durchschnittsgeschwindigkeit

Ein Radfahrer fährt mit einer Geschwindigkeit von 15 km h^{-1} den Berg hinauf. Wie schnell muss er dieselbe Strecke zurückfahren, um insgesamt die doppelte Durchschnittsgeschwindigkeit, also 30 km h^{-1} , zu erreichen?




R. Girwidz

10

1 Kinematik

Aufgabe: Waldi

Förster Knalle und sein Dackel Waldi gehen nach der Pirsch zurück zum Forsthaus. 100 m vor dem Haus führt der Weg aus dem Wald heraus auf eine freie Wiese. Waldi, der das Haus sieht, rennt vor bis zur Tür, dann jedoch, von Pflichtgefühl getrieben, zurück zu seinem Herrchen, wieder zur Tür und zurück usw., bis der Förster die Tür erreicht. Wie weit ist Waldi insgesamt gelaufen, wenn er viermal so schnell läuft wie der Förster geht?



R. Girwidz

11

1 Kinematik

Aufgabe: Flussreise

Ein Lastkahn fährt zwischen zwei Flusshäfen die 100 km auseinander liegen hin und her. Er benötigt flussaufwärts 10 Stunden, flussabwärts nur 4 Stunden. Berechnen Sie die Strömungsgeschwindigkeit des Flusses und die Eigengeschwindigkeit des Bootes.



R. Girwidz

12

1 Kinematik

Aufgabe: Flussreise

Ein Lastkahn fährt zwischen zwei Flusshäfen die 100 km auseinander liegen hin und her. Er benötigt flussaufwärts 10 Stunden, flussabwärts nur 4 Stunden. Berechnen Sie die Strömungsgeschwindigkeit des Flusses und die Eigengeschwindigkeit des Bootes.

$$L = 100 \text{ km}; \quad \Delta t_1 = 4 \text{ h}; \quad \Delta t_2 = 10 \text{ h}$$

$$v_1 = v_{\text{Boot}} + v_{\text{Fluß}} = \frac{L}{\Delta t_1}$$

$$v_2 = v_{\text{Boot}} - v_{\text{Fluß}} = \frac{L}{\Delta t_2}$$

$$\Rightarrow 2v_B = \frac{L}{\Delta t_1} + \frac{L}{\Delta t_2} = \frac{L}{2} \frac{\Delta t_2 + \Delta t_1}{\Delta t_1 \Delta t_2}$$

$$\underline{\underline{v_B = 17,5 \text{ km h}^{-1}}}$$

$$\underline{\underline{v_F = \frac{L}{2} \frac{\Delta t_2 - \Delta t_1}{\Delta t_1 \Delta t_2} = 7,5 \text{ km h}^{-1}}}$$

R. Girwidz

13

1 Kinematik

1.2.3 Die Beschleunigung (Maß für die zeitliche Änderung der Geschwindigkeit)

Mittlere Beschleunigung: (Geschwindigkeitsänderung / Zeitintervall)

Momentanbeschleunigung:

$$a = \lim_{\Delta t \rightarrow 0} \frac{\Delta v}{\Delta t} = \frac{d}{dt} v(t) = \frac{dv}{dt} = \dot{v} = \ddot{x}$$

Beispiel: $v = \dot{x} = 3ct^2$

$$a = \dot{v} = 6ct$$

R. Girwidz

14

Zusammenhänge zwischen x, v und a

- Schiefe Ebene
- beliebige Bewegung

Wie lässt sich von der Beschleunigung a auf die Geschw. v schließen?

Bekannt:
$$\frac{dv}{dt} = a$$

"Umkehrung" der Differentiation nötig.

Exkurs: Integration einer Potenzfunktion

Stammfunktion $\rightarrow F(x) = \int f(x) dx ;$

$$\begin{aligned} F(x) &= \int (u \cdot x^n) dx \\ &= u \cdot \int x^n dx \\ &= u \cdot \frac{x^{n+1}}{n+1} + c \end{aligned}$$

Integrationskonstante
"enthält"
Anfangsbedingungen

1 Kinematik

Bewegung mit konstanter Beschleunigung

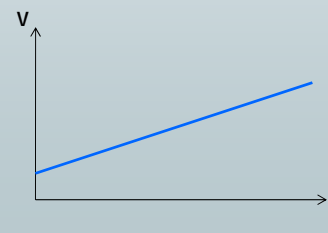

$$a = \text{konst}$$

$$\Delta v = \int_0^t a dt^*$$

$$= a \cdot t$$

$$v - v_0 = a \cdot t$$

$$v = a \cdot t + v_0$$



R. Girwidz

17

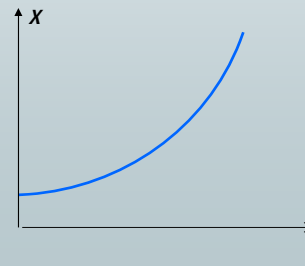
1 Kinematik

Bewegung mit konstanter Beschleunigung

$$\Delta x = \int_0^t v dt^*$$
$$= \frac{1}{2} at^2 + v_0 \cdot t$$

$$x - x_0 = \frac{1}{2} at^2 + v_0 \cdot t$$

$$x = \frac{1}{2} at^2 + v_0 \cdot t + x_0$$



R. Girwidz

18

Fahrbahn

	x_0	$4x_0$	$9x_0$
$x-x_0$	10	40	90
Δt			
$\bar{v} = \frac{\Delta s}{\Delta t}$	v_0	$2v_0$	$3v_0$

Zusammenhang zwischen v und x

Einfacher Fall: $x_0 = 0$; (d.h. Start vom Ursprung)
 $v_0 = 0$; (d.h. Bewegung aus dem Stand)

$$\left. \begin{array}{l} v = a \cdot t \\ x = \frac{1}{2} a t^2 \end{array} \right\} \quad t = \frac{v}{a}; \quad x = \frac{1}{2} a \frac{v^2}{a^2}$$

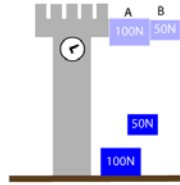
$$v^2 = 2 a x$$

Allgemein: $v^2 - v_0^2 = 2 a x$

Freier Fall:

Aristoteles:

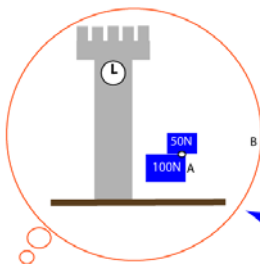
„Der schwerere Körper fällt schneller als der leichtere!“



Freier Fall:

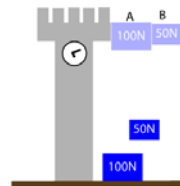
Aristoteles:

„Der schwerere Körper fällt schneller als der leichtere!“



Galilei (I)
Der leichtere Körper bremst

=> Die Kombination fällt langsamer als der schwerere der beiden Körper

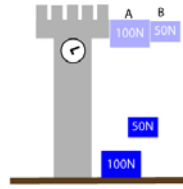


Beide Körper werden verbunden

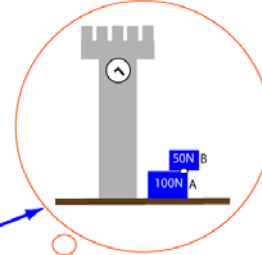
Freier Fall:

Aristoteles:

„Der schwerere Körper fällt schneller als der leichtere.“



Beide Körper werden verbunden



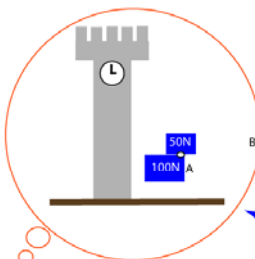
Galilei (II)
 $100\text{N} + 50\text{N} = 150\text{N}$

=> Die Kombination sollte am schnellsten fallen

Freier Fall:

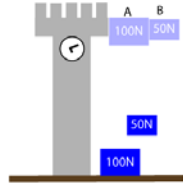
Aristoteles:

„Der schwerere Körper fällt schneller als der leichtere.“

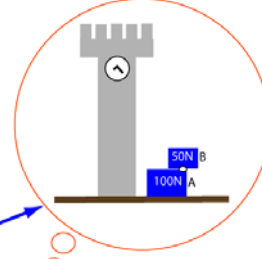


Galilei (I)
 Der leichtere Körper bremst

=> Die Kombination fällt langsamer als der schwerere der beiden Körper



Beide Körper werden verbunden



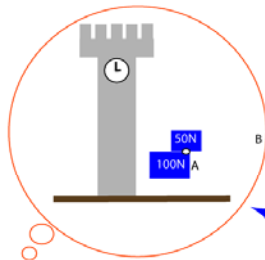
Galilei (II)
 $100\text{N} + 50\text{N} = 150\text{N}$

=> Die Kombination sollte am schnellsten fallen

Freier Fall:

Aristoteles:

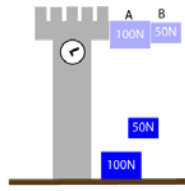
„Der schwerere Körper fällt schneller als der leichtere.“



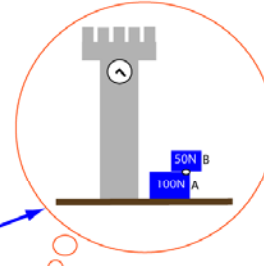
Galilei (I)

Der leichtere Körper bremst

=> Die Kombination fällt langsamer als der schwerere der beiden Körper



Beide Körper werden verbunden



Galilei (II)

$100N + 50N = 150N$

=> Die Kombination sollte am schnellsten fallen

WIDERSPRUCH!!!

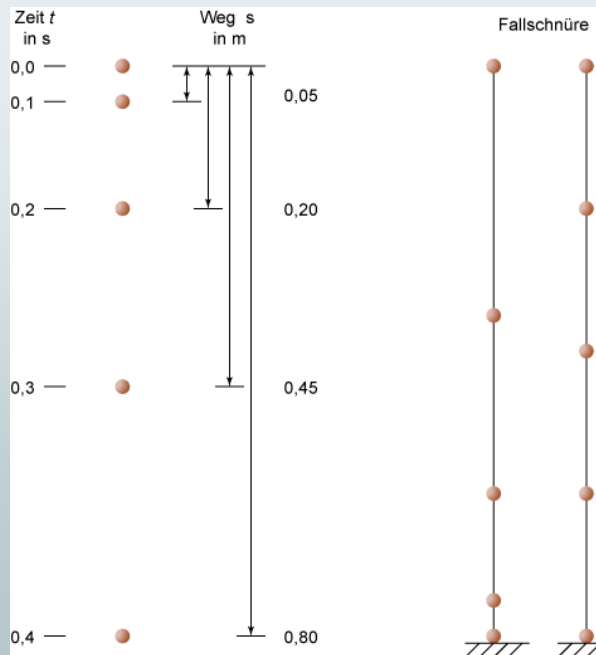
=> Aristoteles hat unrecht

Fallbewegung:



1 Kinematik

Freier Fall:



R. Girwidz

27

1.2 Bewegung in zwei und drei Dimensionen

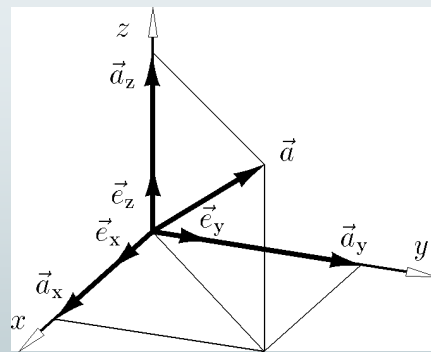
1.2.1 Exkurs rechnen mit Vektoren (I)

- Schreibweise

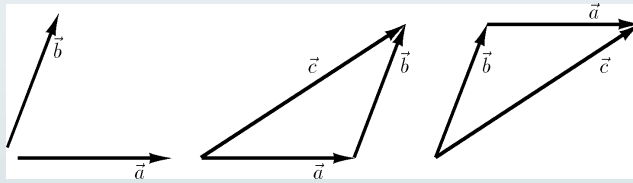
$$\vec{a} = a_x \vec{e}_x + a_y \vec{e}_y + a_z \vec{e}_z = \begin{pmatrix} a_x \\ a_y \\ a_z \end{pmatrix};$$

- Betrag / "Länge"

$$|\vec{a}| = \sqrt{\vec{a} \cdot \vec{a}} = \sqrt{a_x^2 + a_y^2 + a_z^2}$$



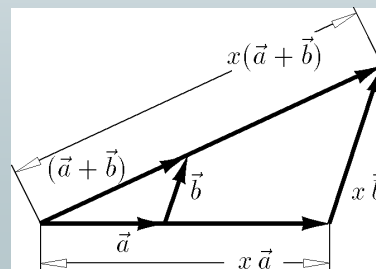
- Addition



$$\vec{c} = \vec{a} + \vec{b} = \begin{pmatrix} a_x \\ a_y \\ a_z \end{pmatrix} + \begin{pmatrix} b_x \\ b_y \\ b_z \end{pmatrix} = \begin{pmatrix} a_x + b_x \\ a_y + b_y \\ a_z + b_z \end{pmatrix};$$

- Multiplikation mit Skalar

$$\vec{c} = x \cdot \vec{a} = \begin{pmatrix} x \cdot a_x \\ x \cdot a_y \\ x \cdot a_z \end{pmatrix};$$



- x, v, a sind gerichtete Größen

=> genauer $\vec{x}, \vec{v}, \vec{a}$;

- Beispiel: Senkrechter Wurf nach oben

1.2.2 Kinematik mit Vektoren

$$\begin{aligned}
 \vec{v} &= \lim_{\Delta t \rightarrow 0} \frac{\Delta \vec{r}}{\Delta t} = \frac{d\vec{r}}{dt} = \dot{\vec{r}} \\
 &= \frac{d}{dt} \vec{r} = \frac{d}{dt} \begin{pmatrix} r_x \\ r_y \\ r_z \end{pmatrix} \\
 &= \underbrace{\frac{dr_x}{dt}}_{v_x} \vec{e}_x + \frac{dr_y}{dt} \vec{e}_y + \frac{dr_z}{dt} \vec{e}_z
 \end{aligned}$$

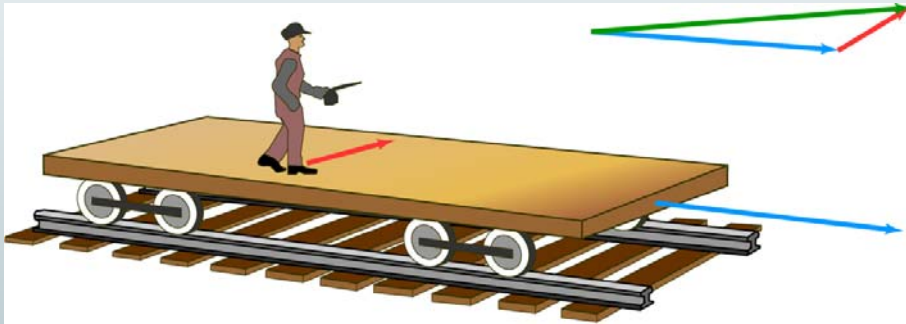
Zerlegung in Komponenten - „einfach Komponenten differenzieren“

(! nur im kart. Koordinatensystem !)

Beschleunigung:

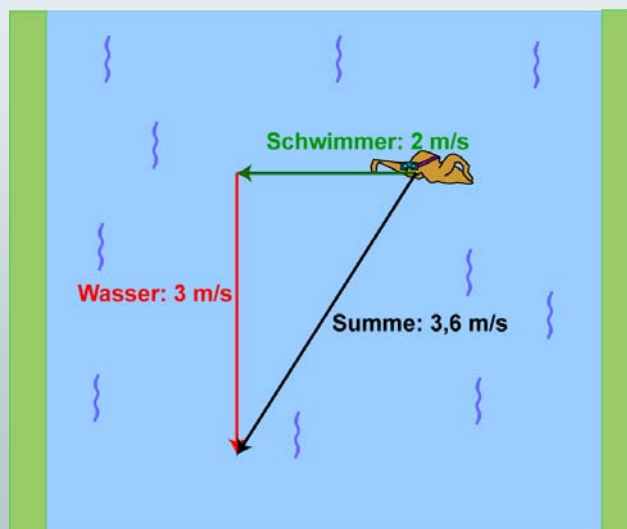
$$\begin{aligned}
 \vec{a} &= \dot{\vec{v}} = \ddot{\vec{r}} \\
 &= \underbrace{\frac{dr_x}{dt}}_{\vec{a}_x} \vec{e}_x + \frac{dr_y}{dt} \vec{e}_y + \frac{dr_z}{dt} \vec{e}_z \quad (\text{Zerlegung in Komponenten}) \\
 &= \frac{d^2 r_x}{dt^2} \vec{e}_x + \frac{d^2 r_y}{dt^2} \vec{e}_y + \frac{d^2 r_z}{dt^2} \vec{e}_z
 \end{aligned}$$

1.2.3 Superpositionsprinzip



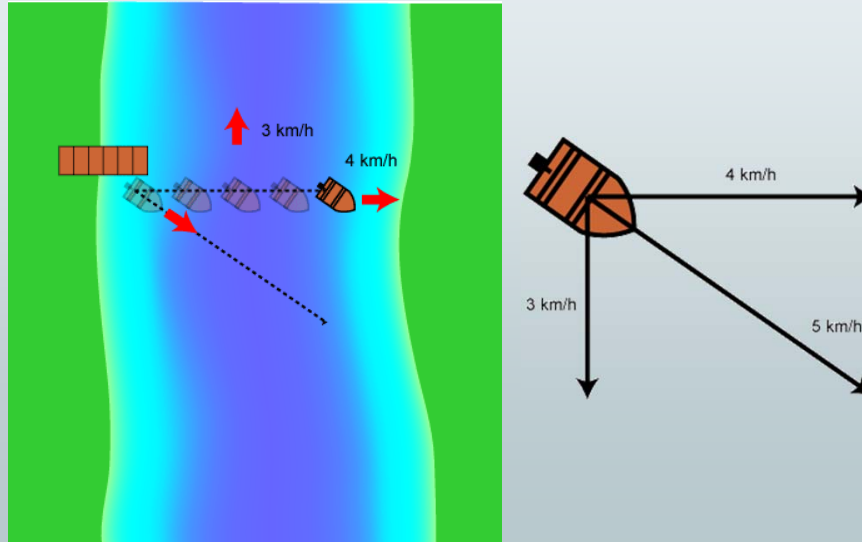
- Bewegungsabläufe lassen zusammengesetzt aus Teilbewegungen beschreiben

- Superpositionsprinzip – Addition von Geschwindigkeiten



1 Kinematik

- Superpositionsprinzip – Addition von Geschwindigkeiten




R. Girwidz

9

1 Kinematik

- Superpositionsprinzip – der schiefe Wurf

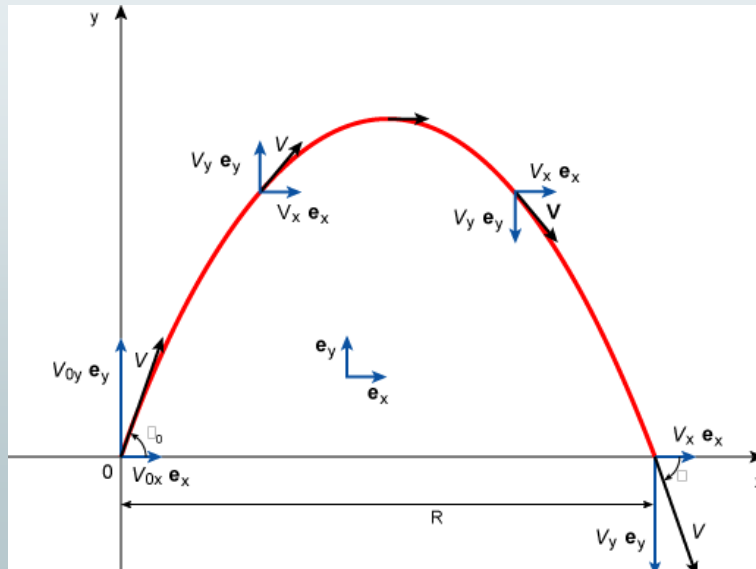


R. Girwidz

10

1 Kinematik

■ Superpositionsprinzip – der schiefe Wurf

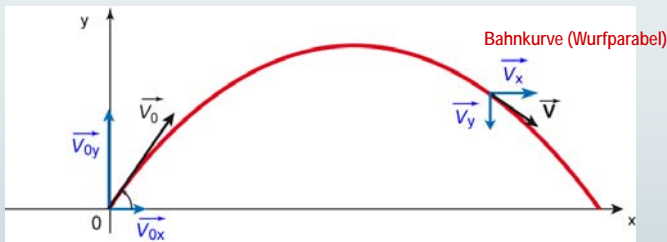


R. Girwidz

11

1 Kinematik

■ Superpositionsprinzip – der schiefe Wurf



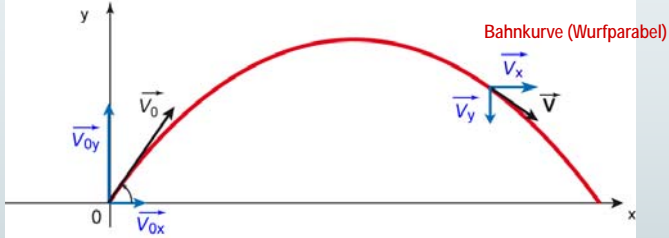
$$\vec{a} = \begin{pmatrix} 0 \\ -g \\ 0 \end{pmatrix};$$

R. Girwidz

12

1 Kinematik

- Superpositionsprinzip – der schiefe Wurf



$$\vec{a} = \begin{pmatrix} 0 \\ -g \\ 0 \end{pmatrix};$$

$$\vec{v} = \begin{pmatrix} v_{0x} \\ v_{0y} - gt \\ 0 \end{pmatrix};$$

1 Kinematik

- Superpositionsprinzip – der schiefe Wurf



$$\vec{a} = \begin{pmatrix} 0 \\ -g \\ 0 \end{pmatrix};$$

$$\vec{v} = \begin{pmatrix} v_{0x} \\ v_{0y} - gt \\ 0 \end{pmatrix};$$

$$\vec{r} = \begin{pmatrix} v_{0x} \cdot t \\ v_{0y} \cdot t - \frac{1}{2}gt^2 \\ 0 \end{pmatrix} = \begin{pmatrix} x \\ y \\ z \end{pmatrix};$$

- Der schiefe Wurf

- a) Bahnkurve

- Der schiefe Wurf

- a) Bahnkurve ($y(t)$ -Kurve)

$$\left. \begin{array}{l} 1) \ y = v_{0y} \cdot t - \frac{1}{2} g t^2 \\ 2) \ x = v_{0x} \cdot t \end{array} \right\} t \text{ eliminieren} \quad t = \frac{x}{v_{0x}}$$

$$\text{in 1) } y = v_{0y} \frac{x}{v_{0x}} - \frac{1}{2} g \frac{x^2}{v_{0x}^2}$$

$$y(x) = \frac{v_{0y}}{v_{0x}} x - \frac{1}{2} \frac{g}{v_{0x}^2} x^2$$

(Wurfparabel)

$$y(x) = \tan \varphi_0 \cdot x - \frac{1}{2} g \frac{x^2}{v_0^2 \cdot \cos^2 \varphi_0}$$

- Der schiefe Wurf

- b) Steighöhe

- Der schiefe Wurf

- b) Steighöhe

$$v_y(t_s) \stackrel{!}{=} 0$$

$$v_{0y} - g \cdot t_s = 0 \quad \Rightarrow \quad t_s = \frac{v_{0y}}{g} \quad \text{Steigzeit}$$

$$\begin{aligned} y_{\max} = y(t_s) &= v_{0y} \cdot t_s - \frac{1}{2} g \cdot t_s^2 \\ &= \frac{v_{0y}^2}{g} - \frac{1}{2} g \frac{v_{0y}^2}{g^2} = \frac{1}{2} \frac{v_{0y}^2}{g} = \frac{1}{2} \frac{v_{0y}^2}{g} \cdot \sin^2 \varphi_0 \end{aligned}$$

■ Der schiefe Wurf

c) Wurfweite

■ Der schiefe Wurf

c) Wurfweite

$$\begin{aligned}x_W &= x(2t_s) = v_{0x} \cdot 2 \frac{v_{0y}}{g} \\ &= 2v_0 \cos \varphi_0 \cdot \frac{v_0 \cdot \sin \varphi_0}{g} \\ &= \frac{v_0^2}{g} \cdot 2 \sin \varphi_0 \cdot \cos \varphi_0 \\ &= \frac{v_0^2}{g} \cdot \sin(2\varphi_0) = x_W(\varphi_0)\end{aligned}$$

Wurfweite abh. von Abwurfgeschwindigkeit
und Abwurfwinkel

■ Der schiefe Wurf

d) Maximale Wurfweite

■ Der schiefe Wurf

d) Maximale Wurfweite

x_W maximal für: $\sin(2\varphi_m) = 1$

$$2\varphi_m = \frac{\pi}{2}$$

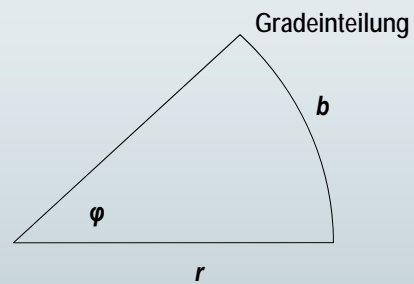
$$\varphi_m = \frac{\pi}{4} = 45^\circ$$

1.2.4 Kinematik der Kreisbewegung

- Beispiele: Kurvenfahrt mit dem Auto, Volksfest, Erdbahn, Mondbahn

1.2.4 Kinematik der Kreisbewegung

- Winkel



$$\varphi = \frac{b}{r} \quad [\varphi]: \text{Radiant (rad)}$$

$$\text{Bogenmaß} = \frac{\text{Länge } b \text{ des Kreisbogens}}{\text{Länge } r \text{ des Radius}} \text{ rad}$$

1.2.4 Kinematik der Kreisbewegung

- Winkel

Umfang eines Kreises: $b = 2\pi r \rightarrow$

360° im Gradmaß entsprechen 2π im Bogenmaß

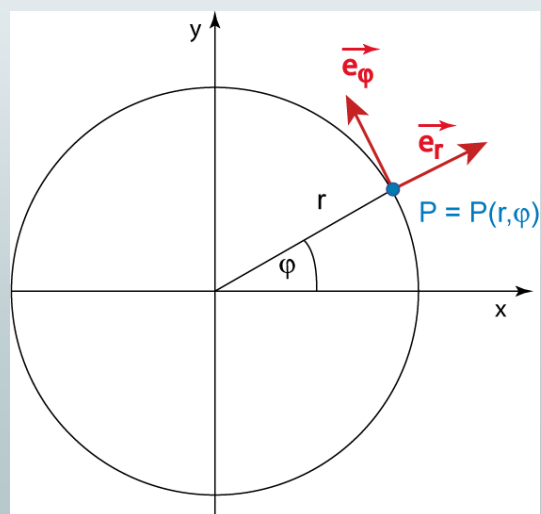
$$\frac{\varphi \text{ (in Grad)}}{360^\circ} = \frac{\varphi \text{ (in Bogenmaß)}}{2\pi}$$

$$\text{Einheit des Bogenmaßes: } \frac{\varphi^\circ}{360^\circ} = \frac{1 \text{ rad}}{2\pi}$$

$$1 \text{ Radiant} \hat{=} \frac{360^\circ}{2\pi} = 57,3^\circ$$

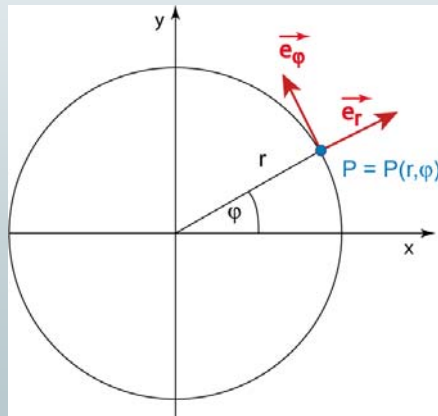
1 Kinematik

- Exkurs: Ebene Polarkoordinaten



1.2.4 Kinematik der Kreisbewegung

- Beschreibung der Kreisbewegung in Polarkoordinaten

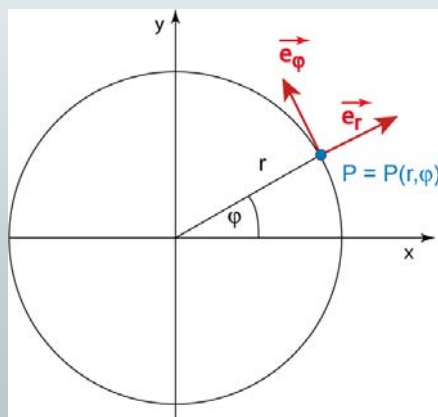


$$r = \text{konst.};$$

$$\varphi = \varphi(t);$$

1.2.4 Kinematik der Kreisbewegung

- Beschreibung der Kreisbewegung in Polarkoordinaten



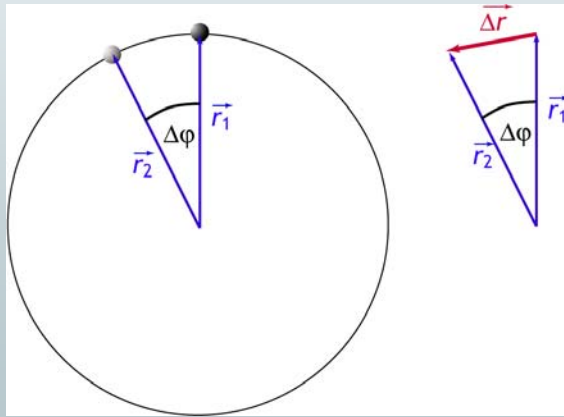
$$r = \text{konst.};$$

$$\varphi = \varphi(t);$$

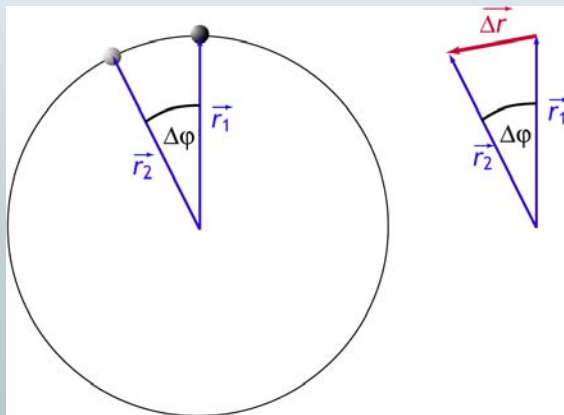
$$x(t) = r \cdot \cos \varphi(t);$$

$$y(t) = r \cdot \sin \varphi(t);$$

- Kreisbewegung - Geschwindigkeit



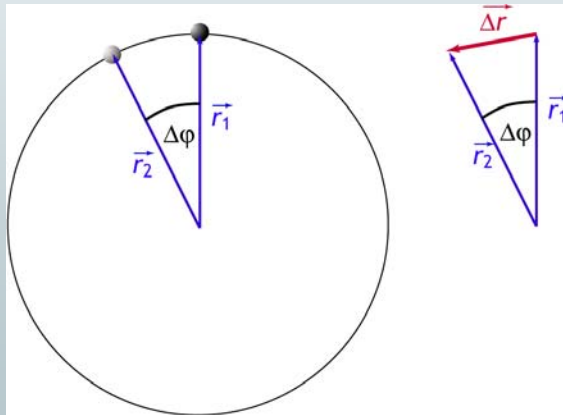
- Kreisbewegung - Geschwindigkeit: $\vec{v} = \lim_{\Delta t \rightarrow 0} \frac{\Delta \vec{r}}{\Delta t}$



$$r = \text{konst.}$$

$$\vec{v} = \lim_{\Delta t \rightarrow 0} \frac{r \cdot \Delta \varphi}{\Delta t} \vec{e}_\varphi$$

- Kreisbewegung – Geschwindigkeit: $\vec{v} = \lim_{\Delta t \rightarrow 0} \frac{\Delta \vec{r}}{\Delta t}$



$r = \text{konst.}$

$$\vec{v} = \lim_{\Delta t \rightarrow 0} \frac{r \cdot \Delta \varphi}{\Delta t} \vec{e}_\varphi$$

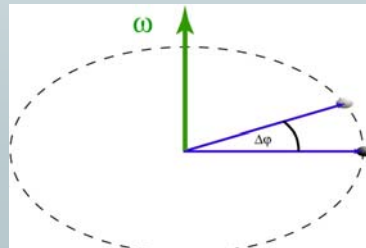
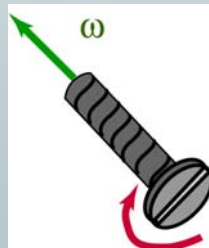
$$= r \underbrace{\frac{d\varphi}{dt}}_{\omega} \vec{e}_\varphi$$

- Kreisbewegung – Winkelgeschwindigkeit

- Definition: $\omega := \frac{d\varphi}{dt}$

- für ω konst: $\omega = \frac{\Delta \varphi}{\Delta t} = \frac{2\pi}{T}$

- genauer: ω ist Vektor



- Kreisbewegung

- Geschwindigkeit & Winkelgeschwindigkeit:

$$v = |\vec{v}| = \omega \cdot r;$$

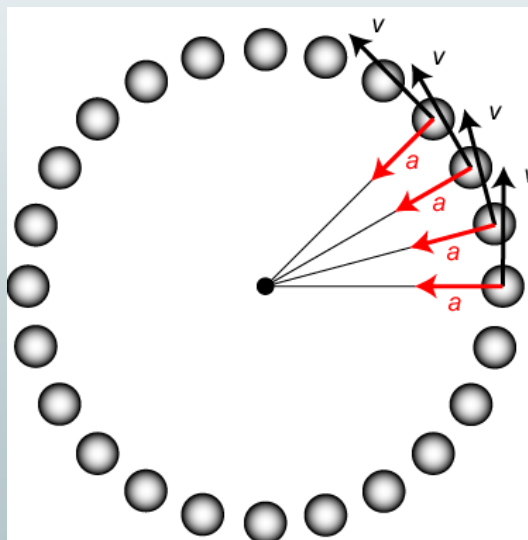
- Spezialfall: ω konst; v konst. :

$$\omega = \frac{2\pi}{T};$$

$$v_x = -r \cdot \omega \cdot \sin(\omega t + \varphi_0);$$

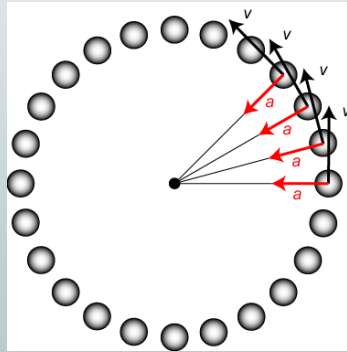
$$v_y = r \cdot \omega \cdot \cos(\omega t + \varphi_0);$$

- Kreisbewegung - Beschleunigung



■ Kreisbewegung - Beschleunigung

$$\vec{a} = \lim_{\Delta t \rightarrow 0} \frac{\vec{\Delta v}}{\Delta t}$$



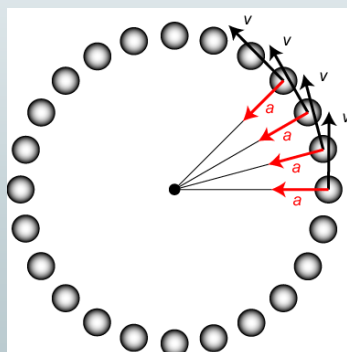
Spezialfall gleichförmige Kreisbewegung:

$$r = \text{konst.}$$

$$\vec{a} = \lim_{\Delta t \rightarrow 0} \frac{v \cdot \Delta \varphi}{\Delta t} (-\vec{e}_r)$$

■ Kreisbewegung - Beschleunigung

$$\vec{a} = \lim_{\Delta t \rightarrow 0} \frac{\vec{\Delta v}}{\Delta t}$$



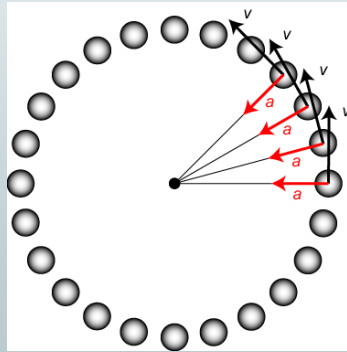
Spezialfall gleichförmige Kreisbewegung:

$$r = \text{konst.}$$

$$\begin{aligned} \vec{a} &= \lim_{\Delta t \rightarrow 0} \frac{v \cdot \Delta \varphi}{\Delta t} (-\vec{e}_r) \\ &= v \cdot \lim_{\Delta t \rightarrow 0} \frac{\Delta \varphi}{\Delta t} (-\vec{e}_r) = v \cdot \omega \cdot (-\vec{e}_r) \end{aligned}$$

- Kreisbewegung - Beschleunigung

$$\vec{a} = \lim_{\Delta t \rightarrow 0} \frac{\overrightarrow{\Delta v}}{\Delta t}$$



Spezialfall gleichförmige Kreisbewegung:

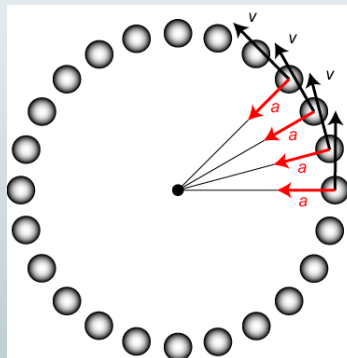
$r = \text{konst.}$

$$\begin{aligned} \vec{a} &= \lim_{\Delta t \rightarrow 0} \frac{v \cdot \Delta \varphi}{\Delta t} (-\vec{e}_r) \\ &= v \cdot \lim_{\Delta t \rightarrow 0} \frac{\Delta \varphi}{\Delta t} (-\vec{e}_r) = v \cdot \omega \cdot (-\vec{e}_r) \end{aligned}$$

$$\vec{a} = r \cdot \omega^2 \cdot (-\vec{e}_r) = \frac{v_t^2}{r} (-\vec{e}_r)$$

- Kreisbewegung - Beschleunigung

$$\vec{a} = \lim_{\Delta t \rightarrow 0} \frac{\overrightarrow{\Delta v}}{\Delta t}$$



Spezialfall gleichförmige Kreisbewegung:

$$\vec{a} = r \cdot \omega^2 \cdot (-\vec{e}_r) = \frac{v_t^2}{r} (-\vec{e}_r)$$

$$|\vec{a}| = a = r \cdot \omega^2 = \frac{v_t^2}{r};$$

Radialbeschleunigung,
Zentripetalbeschleunigung,
Zentralbeschleunigung

- Allgemein

